

Time: 10 Minutes

Paper Math 4

Total Marks: 10

6th Month, 1st Week, 6th Day | Revision Unit 6 Ex.1-3

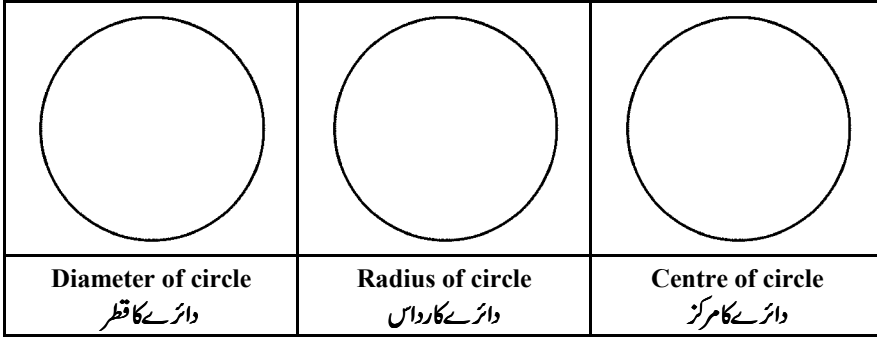
Q.No.1. Construct the following angles: (5)

سوال نمبر 1: درج ذیل زاویے بنائیں:

- (i)
- 90°
- (ii)
- 30°

Q.No.2. Draw the parts of following circles: (5)

سوال نمبر 2: درج ذیل دائروں کے حصے بنائیں:



Time: 10 Minutes

Paper Math 4

Total Marks: 10

6th Month, 1st Week, 6th Day | Revision Unit 6 Ex.1-3

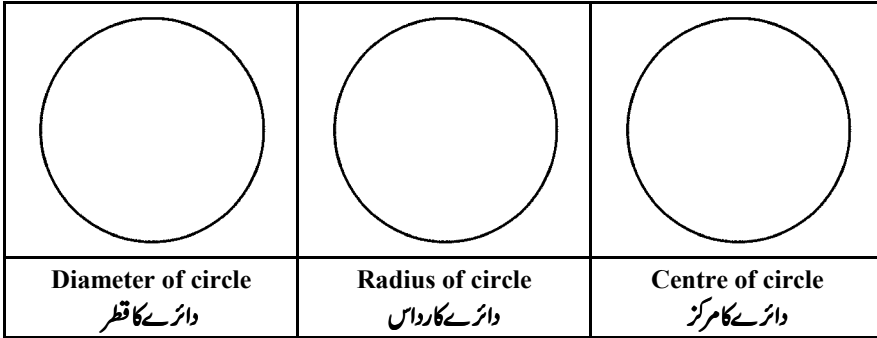
Q.No.1. Construct the following angles: (5)

سوال نمبر 1: درج ذیل زاویے بنائیں:

- (i)
- 90°
- (ii)
- 30°

Q.No.2. Draw the parts of following circles: (5)

سوال نمبر 2: درج ذیل دائروں کے حصے بنائیں:



Time: 10 Minutes

Paper Math 4

Total Marks: 10

6th Month, 1st Week, 6th Day | Revision Unit 6 Ex.1-3

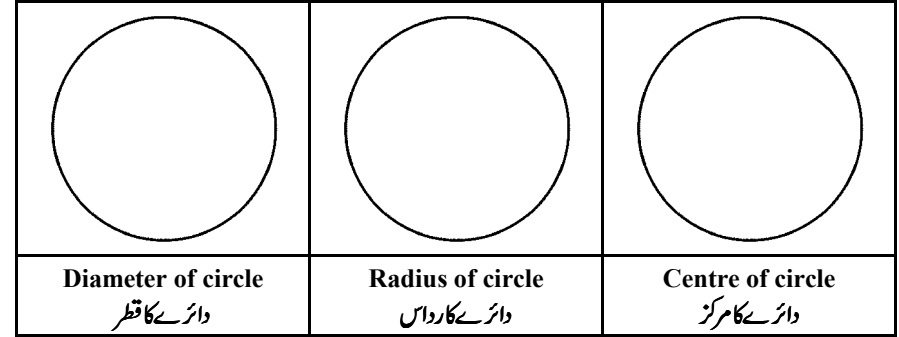
Q.No.1. Construct the following angles: (5)

سوال نمبر 1: درج ذیل زاویے بنائیں:

- (i)
- 90°
- (ii)
- 30°

Q.No.2. Draw the parts of following circles: (5)

سوال نمبر 2: درج ذیل دائروں کے حصے بنائیں:



Time: 10 Minutes

Paper Math 4

Total Marks: 10

6th Month, 1st Week, 6th Day | Revision Unit 6 Ex.1-3

Q.No.1. Construct the following angles: (5)

سوال نمبر 1: درج ذیل زاویے بنائیں:

- (i)
- 90°
- (ii)
- 30°

Q.No.2. Draw the parts of following circles: (5)

سوال نمبر 2: درج ذیل دائروں کے حصے بنائیں:

